

2024-2025 பருவம் 3

2

எண்களை அறிவேன் - I



பத்தும் பத்தும் இருபது என்று
பருத்திப்பூ சொல்லுச்சாம் (2)
இருபதும் பத்தும் முப்பது என்று
இலவம்பூ சொல்லுச்சாம் (2)
முப்பதும் பத்தும் நாற்பது என்று

2

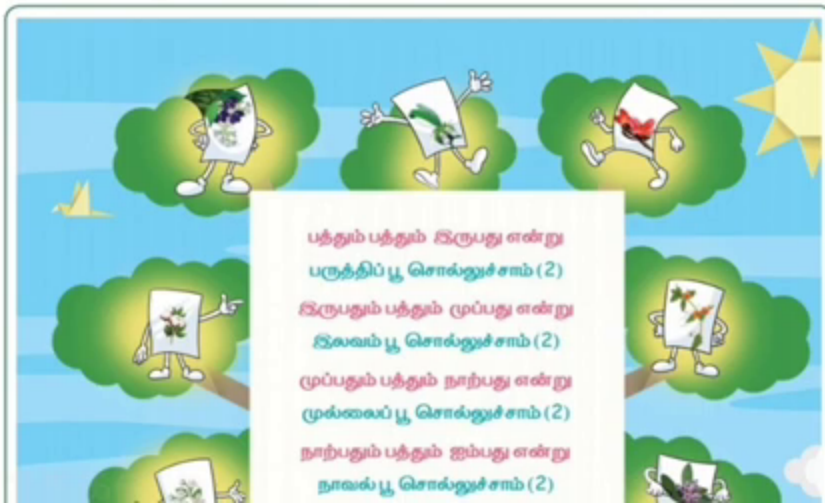
எண்களை அறிவேன் - I



பத்தும் பத்தும் இருபது என்று
பருத்திப்பூ சொல்லுச்சாம் (2)
இருபதும் பத்தும் முப்பது என்று
இலவம்பூ சொல்லுச்சாம் (2)
முப்பதும் பத்தும் நாற்பது என்று
முல்லைப்பூ சொல்லுச்சாம் (2)
நாற்பதும் பத்தும் ஐம்பது என்று
நாவல்பூ சொல்லுச்சாம் (2)

2

எண்களை அறிவேன் - I



பத்தும் பத்தும் இருபது என்று
பருத்திப்பூ சொல்லுச்சாம் (2)
இருபதும் பத்தும் முப்பது என்று
இலவம்பூ சொல்லுச்சாம் (2)
முப்பதும் பத்தும் நாற்பது என்று
முல்லைப்பூ சொல்லுச்சாம் (2)
நாற்பதும் பத்தும் ஐம்பது என்று
நாவல்பூ சொல்லுச்சாம் (2)

2

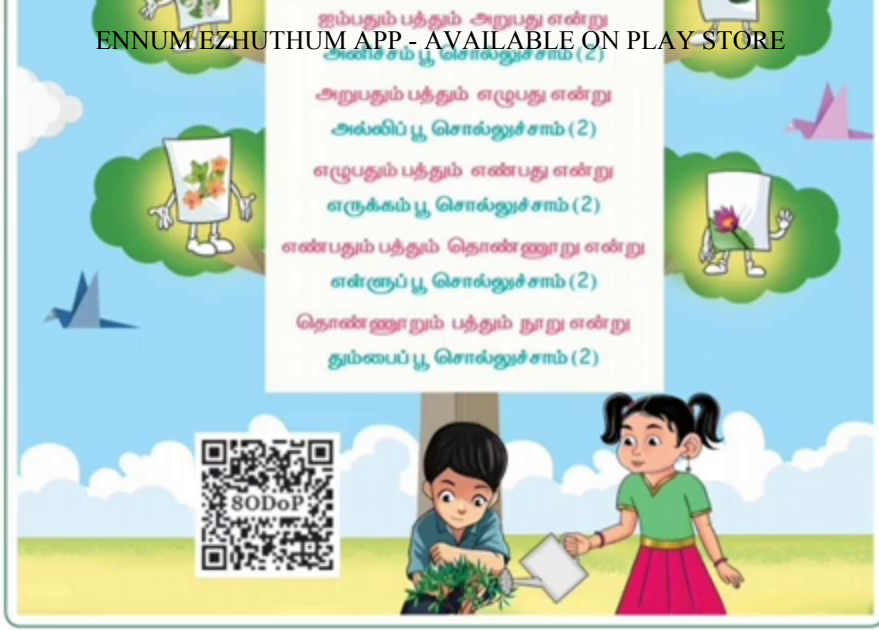
எண்களை அறிவேன் - I



பத்தும் பத்தும் இருபது என்று
பருத்திப்பூ சொல்லுச்சாம் (2)
இருபதும் பத்தும் முப்பது என்று
இலவம்பூ சொல்லுச்சாம் (2)
முப்பதும் பத்தும் நாற்பது என்று
முல்லைப்பூ சொல்லுச்சாம் (2)
நாற்பதும் பத்தும் ஐம்பது என்று
நாவல்பூ சொல்லுச்சாம் (2)





















2.1

குச்சிகளின் எண்ணிக்கை மற்றும் எண்பெயரை எழுதுக.

குச்சிகள்	எண்ணிக்கை	எண்பெயர்
	70	எழுபது
	60	அறுபது
	90	தொண்ணூறு
	30	முப்பது
	50	ஐம்பது
	40	நாற்பது
	80	எண்பது








2.1

குச்சிகளின் எண்ணிக்கை மற்றும் எண்பெயரை எழுதுக.

குச்சிகள்	எண்ணிக்கை	எண்பெயர்
	70	எழுபது
	60	அறுபது
	90	தொண்ணூறு
	30	முப்பது
	50	ஐம்பது
	40	நாற்பது
	80	எண்பது

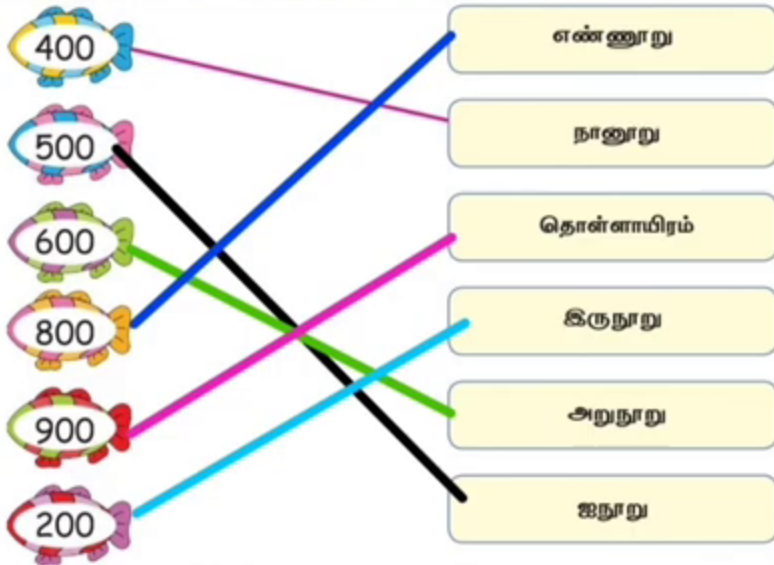
2.1

குச்சிகளின் எண்ணிக்கை மற்றும் எண்பெயரை எழுதுக.

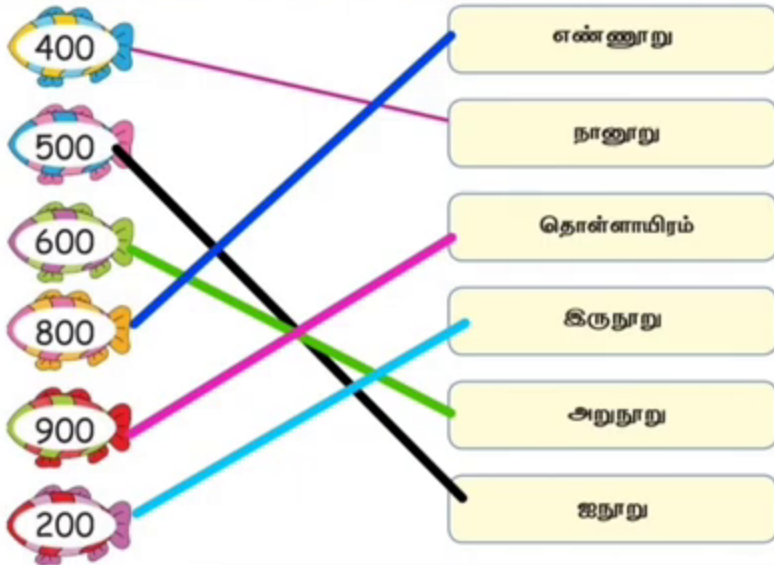
குச்சிகள்	எண்ணிக்கை	எண்பெயர்
	70	எழுபது
	60	அறுபது
	90	தொண்ணூறு
	30	முப்பது
	50	ஐம்பது
	40	நாற்பது
	80	எண்பது

2.2

எண்ணுதலுக்கான பயன்பாடுகள் - AVAILABLE ON PLAY STORE

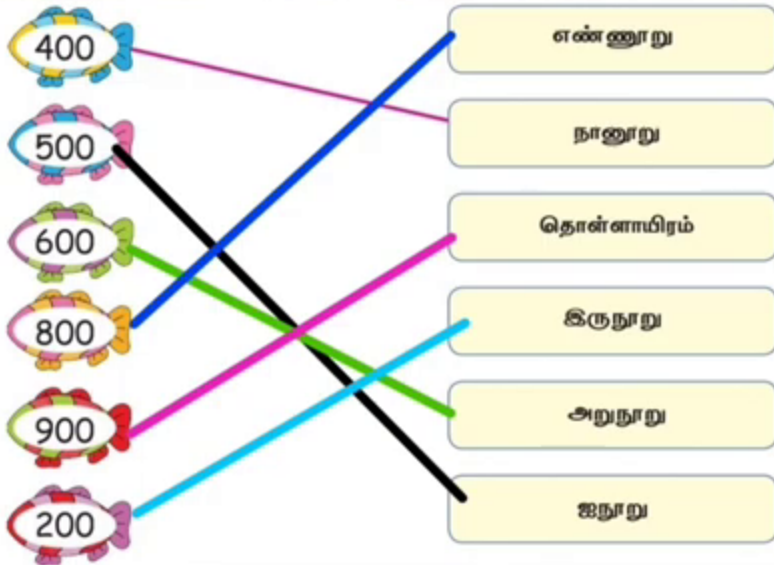




2.2

எண்ணுதலுக்கான பயன்பாடுகள் - எண்ணுதல்
ENNUM EZHUTHUM APP - AVAILABLE ON PLAY STORE


2.2

எண்ணுதலுக்கான பயன்பாடுகள் - AVAILABLE ON PLAY STORE



மணிகள்	எண்ணிக்கை	எண்பெயர்
	300	மூநூறு
	700	எழுநூறு
	800	எண்ணூறு
	900	தொள்ளாயிரம்

மணிகள்	எண்ணிக்கை	எண்பெயர்
	300	மூநூறு
	700	எழுநூறு
	800	எண்ணூறு
	900	தொள்ளாயிரம்

மணிகள்	எண்ணிக்கை	எண்பெயர்
	300	மூநூறு
	700	எழுநூறு
	800	எண்ணூறு
	900	தொள்ளாயிரம்

	300	தொள்ளாயிரம்
	600	அறுநூறு
	500	ஐநூறு
	400	நானூறு

	300	தொள்ளாயிரம்
	600	அறுநூறு
	500	ஐநூறு
	400	நானூறு

	300	தொள்ளாயிரம்
	600	அறுநூறு
	500	ஐநூறு
	400	நானூறு

2.4

பென்சில்களின் எண்ணிக்கை மற்றும் எண்பெயரை எழுதுக.

பென்சில்கள்	எண்ணிக்கை	எண்பெயர்
	48	நாற்பத்து எட்டு
	73	எழுபத்து மூன்று
	55	ஐம்பத்து ஐந்து
	66	அறுபத்து ஆறு
	81	எண்பத்து ஒன்று

2.4

பென்சில்களின் எண்ணிக்கை மற்றும் எண்பெயரை எழுதுக.

பென்சில்கள்	எண்ணிக்கை	எண்பெயர்
	48	நாற்பத்து எட்டு
	73	எழுபத்து மூன்று
	55	ஐம்பத்து ஐந்து
	66	அறுபத்து ஆறு
	81	எண்பத்து ஒன்று

2.4

பென்சில்களின் எண்ணிக்கை மற்றும் எண்பெயரை எழுதுக.

பென்சில்கள்	எண்ணிக்கை	எண்பெயர்
	48	நாற்பத்து எட்டு
	73	எழுபத்து மூன்று
	55	ஐம்பத்து ஐந்து
	66	அறுபத்து ஆறு
	81	எண்பத்து ஒன்று

475	நானூற்று எழுபத்து ஐந்து
323	முந்நூற்று இருபத்து மூன்று
294	இருநூற்று தொண்ணூற்று நான்கு
112	நூற்று பன்னிரண்டு
238	இருநூற்று முப்பத்து எட்டு
364	முந்நூற்று அறுபத்து நான்கு
271	இருநூற்று எழுபத்து ஒன்று
127	நூற்று இருபத்து ஏழு
490	நானூற்று தொண்ணூறு

475	நானூற்று எழுபத்து ஐந்து
323	முந்நூற்று இருபத்து மூன்று
294	இருநூற்று தொண்ணூற்று நான்கு
112	நூற்று பன்னிரண்டு
238	இருநூற்று முப்பத்து எட்டு
364	முந்நூற்று அறுபத்து நான்கு
271	இருநூற்று எழுபத்து ஒன்று
127	நூற்று இருபத்து ஏழு
490	நானூற்று தொண்ணூறு

475	நானூற்று எழுபத்து ஐந்து
323	முந்நூற்று இருபத்து மூன்று
294	இருநூற்று தொண்ணூற்று நான்கு
112	நூற்று பன்னிரண்டு
238	இருநூற்று முப்பத்து எட்டு
364	முந்நூற்று அறுபத்து நான்கு
271	இருநூற்று எழுபத்து ஒன்று
127	நூற்று இருபத்து ஏழு
490	நானூற்று தொண்ணூறு

2.6 எண் பெயரை எழுதுக.

236	இருநூற்று முப்பத்து ஆறு
515	ஐநூற்று பதினைந்து
494	நானூற்று தொண்ணூற்று நான்கு
741	எழுநூற்று நார்பத்து ஒன்று
838	எண்ணூற்று முப்பத்து எட்டு
567	ஐநூற்று அறுபத்து ஏழு
872	எண்ணூற்று எழுபத்து இரண்டு
723	எழுநூற்று இருபத்து மூன்று
990	தொள்ளாயிரத்து தொண்ணூற்று

2.6 எண் பெயரை எழுதுக.

236	இருநூற்று முப்பத்து ஆறு
515	ஐநூற்று பதினைந்து
494	நானூற்று தொண்ணூற்று நான்கு
741	எழுநூற்று நார்பத்து ஒன்று
838	எண்ணூற்று முப்பத்து எட்டு
567	ஐநூற்று அறுபத்து ஏழு
872	எண்ணூற்று எழுபத்து இரண்டு
723	எழுநூற்று இருபத்து மூன்று
990	தொள்ளாயிரத்து தொண்ணூற்று

2.6 எண் பெயரை எழுதுக.

236	இருநூற்று முப்பத்து ஆறு
515	ஐநூற்று பதினைந்து
494	நானூற்று தொண்ணூற்று நான்கு
741	எழுநூற்று நார்பத்து ஒன்று
838	எண்ணூற்று முப்பத்து எட்டு
567	ஐநூற்று அறுபத்து ஏழு
872	எண்ணூற்று எழுபத்து இரண்டு
723	எழுநூற்று இருபத்து மூன்று
990	தொள்ளாயிரத்து தொண்ணூற்று

2.7

ENNUMEZHUTHUM APP AVAILABLE ON PLAY STORE

ஒற்றை எண்கள் மற்றும் இரட்டை எண்களை தனித்தனியே எழுதுக.

84	41	8	33	87	18	9
79	14	66	21	6	30	
92	7	73	52	95	47	69

ஒற்றை எண்கள்

79	21	9
41	87	
7	95	
73	47	
33	69	

இரட்டை எண்கள்

84	66	30
92	52	
8	6	
14	18	

2.7

ENNUMEZHUTHUM APP AVAILABLE ON PLAY STORE

ஒற்றை எண்கள் மற்றும் இரட்டை எண்களை தனித்தனியே எழுதுக.

84	41	8	33	87	18	9
79	14	66	21	6	30	
92	7	73	52	95	47	69

ஒற்றை எண்கள்

79	21	9
41	87	
7	95	
73	47	
33	69	

இரட்டை எண்கள்

84	66	30
92	52	
8	6	
14	18	

2.7

ENNUMEZHUTHUM APP AVAILABLE ON PLAY STORE

ஒற்றை எண்கள் மற்றும் இரட்டை எண்களை தனித்தனியே எழுதுக.

84	41	8	33	87	18	9
79	14	66	21	6	30	
92	7	73	52	95	47	69

ஒற்றை எண்கள்

79 21 9
41 87
7 95
73 47
33 69

இரட்டை எண்கள்

84 66 30
92 52
8 6
14 18

2.8

கொடுக்கப்பட்டுள்ள எண்களின் ஒன்றுகளை உற்றுநோக்கி, ஒற்றை எண்களையும் இரட்டை எண்களையும் தனித்தனியே எழுதுக.

15	228	34	97	437	224	287	456
58	43	279	76	320	437		
335	482	480	134	404	315		

ஒற்றை எண்கள்

15	437
335	287
43	315
279	
97	

இரட்டை எண்கள்

58	480	320
228	76	404
34	224	456
482	134	

2.8

கொடுக்கப்பட்டுள்ள எண்களின் ஒன்றுகளை உற்றுநோக்கி, ஒற்றை எண்களையும் இரட்டை எண்களையும் தனித்தனியே எழுதுக.

15	228	34	97	437	224	287	456
58	43	279	76	320	437		
335	482	480	134	404	315		

ஒற்றை எண்கள்

15	437
335	287
43	315
279	
97	

இரட்டை எண்கள்

58	480	320
228	76	404
34	224	456
482	134	

2.8

கொடுக்கப்பட்டுள்ள எண்களின் ஒன்றுகளை உற்றுநோக்கி, ஒற்றை எண்களையும் இரட்டை எண்களையும் தனித்தனியே எழுதுக.

15	228	34	97	437	224	287	456
58	43	279	76	320	437		
335	482	480	134	404	315		

ஒற்றை எண்கள்

15	437
335	287
43	315
279	
97	

இரட்டை எண்கள்

58	480	320
228	76	404
34	224	456
482	134	

2.9

ENNUM EZHUTHUM APP - AVAILABLE ON PLAYSTORE

ஒற்றை எண்களையும் இரட்டை எண்களையும் தனித்தனியே எழுதுக.

152	998	734		575	432	72	965
			379				
684	733		497	576	620		574
	735	682		850	243	431	513

ஒற்றை எண்கள்

735	575
733	243
497	431
379	965
	513

இரட்டை எண்கள்

684	576	
998	850	574
734	432	
682	620	

2.9

ENNUM EZHUTHUM APP - AVAILABLE ON PLAYSTORE

ஒற்றை எண்களையும் இரட்டை எண்களையும் தனித்தனியே எழுதுக.

152	998	734		575	432	72	965
			379				
684	733		497	576	620		574
	735	682		850	243	431	513

ஒற்றை எண்கள்

735	575
733	243
497	431
379	965
	513

இரட்டை எண்கள்

684	576	
998	850	574
734	432	
682	620	

2.9

ENNUM EZHUTHUM APP - AVAILABLE ON PLAYSTORE

ஒற்றை எண்களையும் இரட்டை எண்களையும் தனித்தனியே எழுதுக.

152	998	734		575	432	72	965
			379				
684	733		497	576	620		574
	735	682		850	243	431	513

ஒற்றை எண்கள்

735	575
733	243
497	431
379	965
	513

இரட்டை எண்கள்


684	576	
998	850	574
734	432	
682	620	

2.10 வட்டம் வரைந்து சமப்பங்கீடு செய்க.

30 மணிகளை 5 பேருக்குச் சமமாகப் பங்கிடவும்.



12 மணிகளை 2 பேருக்குச் சமமாகப் பங்கிடவும்.



16 மணிகளை 4 பேருக்குச் சமமாகப் பங்கிடவும்.



2.10 வட்டம் வரைந்து சமப்பங்கீடு செய்க.

30 மணிகளை 5 பேருக்குச் சமமாகப் பங்கிடவும்.



12 மணிகளை 2 பேருக்குச் சமமாகப் பங்கிடவும்.



16 மணிகளை 4 பேருக்குச் சமமாகப் பங்கிடவும்.



2.10 வட்டம் வரைந்து சமப்பங்கீடு செய்க.

30 மணிகளை 5 பேருக்குச் சமமாகப் பங்கிடவும்.






12 மணிகளை 2 பேருக்குச் சமமாகப் பங்கிடவும்.






16 மணிகளை 4 பேருக்குச் சமமாகப் பங்கிடவும்.






2.1 ENNUMEZITHUM APP AVAILABLE ON PLAY STORE

பங்கீடு செய்ய வேண்டிய மணிகளின் எண்ணிக்கை	வட்டங்களின் எண்ணிக்கை	சமப்பங்கீடு
10	2	
24	4	
12	3	

2.1 எண்மீழிதும்பு APP AVAILABLE ON PLAY STORE

பங்கீடு செய்ய வேண்டிய மணிகளின் எண்ணிக்கை	வட்டங்களின் எண்ணிக்கை	சமப்பங்கீடு
10	2	
24	4	
12	3	

2.1 ENNUMEZITHUM APP AVAILABLE ON PLAY STORE

பங்கீடு செய்ய வேண்டிய மணிகளின் எண்ணிக்கை	வட்டங்களின் எண்ணிக்கை	சமப்பங்கீடு
10	2	
24	4	
12	3	

2.12 வகுத்தல் கூற்றுகளின் பகுதிகளை எழுதுக.

$18 \div 9 = 2$ வகுபடும் எண் = 18 வகுத்தி = 9 ஈவு = 2	$18 \div 2 = 9$ வகுபடும் எண் = 18 வகுத்தி = 2 ஈவு = 9
$12 \div 3 = 4$ வகுபடும் எண் = 12 வகுத்தி = 3 ஈவு = 4	$12 \div 4 = 3$ வகுபடும் எண் = 12 வகுத்தி = 4 ஈவு = 3

2.12 வகுத்தல் கூற்றுகளின் பகுதிகளை எழுதுக.

$18 \div 9 = 2$ வகுபடும் எண் = 18 வகுத்தி = 9 ஈவு = 2	$18 \div 2 = 9$ வகுபடும் எண் = 18 வகுத்தி = 2 ஈவு = 9
$12 \div 3 = 4$ வகுபடும் எண் = 12 வகுத்தி = 3 ஈவு = 4	$12 \div 4 = 3$ வகுபடும் எண் = 12 வகுத்தி = 4 ஈவு = 3

2.12 வகுத்தல் கூற்றுகளின் பகுதிகளை எழுதுக.

$18 \div 9 = 2$ வகுபடும் எண் = 18 வகுத்தி = 9 ஈவு = 2	$18 \div 2 = 9$ வகுபடும் எண் = 18 வகுத்தி = 2 ஈவு = 9
$12 \div 3 = 4$ வகுபடும் எண் = 12 வகுத்தி = 3 ஈவு = 4	$12 \div 4 = 3$ வகுபடும் எண் = 12 வகுத்தி = 4 ஈவு = 3

<p>21, 3, 7</p> <p>$21 \div 3 = 7$</p> <p>$21 \div 7 = 3$</p>	<p>36, 4, 9</p> <p>$36 \div 4 = 9$</p> <p>$36 \div 9 = 4$</p>
<p>5, 45, 9</p> <p>$45 \div 9 = 5$</p> <p>$45 \div 5 = 9$</p>	<p>10, 6, 60</p> <p>$60 \div 10 = 6$</p> <p>$60 \div 6 = 10$</p>

2.13

ENNUM EZZHUTHUM APP AVAILABLE ON PLAY STORE
கூற்றுக்களை எழுதுக.

21, 3, 7

$$21 \div 3 = 7$$

$$21 \div 7 = 3$$

36, 4, 9

$$36 \div 4 = 9$$

$$36 \div 9 = 4$$

5, 45, 9

$$45 \div 9 = 5$$

$$45 \div 5 = 9$$

10, 6, 60

$$60 \div 10 = 6$$

$$60 \div 6 = 10$$

<p>21, 3, 7</p> <p>$21 \div 3 = 7$</p> <p>$21 \div 7 = 3$</p>	<p>36, 4, 9</p> <p>$36 \div 4 = 9$</p> <p>$36 \div 9 = 4$</p>
<p>5, 45, 9</p> <p>$45 \div 9 = 5$</p> <p>$45 \div 5 = 9$</p>	<p>10, 6, 60</p> <p>$60 \div 10 = 6$</p> <p>$60 \div 6 = 10$</p>

ஒன்று
இரண்டு
மூன்று
நான்கு
ஐந்து
ஆறு
ஏழு
எட்டு
ஒன்பது
பத்து

பத்து
இருபது
முப்பது
நாற்பது
ஐம்பது
அறுபது
எழுபது
எண்பது
தொண்ணூறு
நூறு

ஒன்று
இரண்டு
மூன்று
நான்கு
ஐந்து
ஆறு
ஏழு
எட்டு
ஒன்பது
பத்து

பத்து
இருபது
முப்பது
நாற்பது
ஐம்பது
அறுபது
எழுபது
எண்பது
தொண்ணூறு
நூறு

ஒன்று
இரண்டு
மூன்று
நான்கு
ஐந்து
ஆறு
ஏழு
எட்டு
ஒன்பது
பத்து

பத்து
இருபது
முப்பது
நாற்பது
ஐம்பது
அறுபது
எழுபது
எண்பது
தொண்ணூறு
நூறு

ஒன்று
இரண்டு
மூன்று
நான்கு
ஐந்து
ஆறு
ஏழு
எட்டு
ஒன்பது
பத்து

பத்து
இருபது
முப்பது
நாற்பது
ஐம்பது
அறுபது
எழுபது
எண்பது
தொண்ணூறு
நூறு



ஒன்று
இரண்டு
மூன்று
நான்கு
ஐந்து
ஆறு
ஏழு
எட்டு
ஒன்பது
பத்து

பத்து
இருபது
முப்பது
நாற்பது
ஐம்பது
அறுபது
எழுபது
எண்பது
தொண்ணூறு
நூறு



ஒன்று
இரண்டு
மூன்று
நான்கு
ஐந்து
ஆறு
ஏழு
எட்டு
ஒன்பது
பத்து

பத்து
இருபது
முப்பது
நாற்பது
ஐம்பது
அறுபது
எழுபது
எண்பது
தொண்ணூறு
நூறு

நானே செய்வேன்

1 காற்றாடிகளை எண்ணி எழுதுக.



$$6 \text{ பத்துகள்} + 4 \text{ ஒன்றுகள்} = 64$$

2 8 பத்துகள் கொண்ட எண்ணைத் தேர்ந்தெடு.

அ) 98

ஆ) 38

இ) 87

ஈ) 48

3 9 பூங்களை 3 பேருக்குச் சமமாகப் பங்கிடவும்.

நானே செய்வேன்

1 காற்றாடிகளை எண்ணி எழுதுக.



$$6 \text{ பத்துகள்} + 4 \text{ ஒன்றுகள்} = 64$$

2 8 பத்துகள் கொண்ட எண்ணைத் தேர்ந்தெடு.

அ) 98

ஆ) 38

இ) 87

ஈ) 48

3 9 பூங்களை 3 பேருக்குச் சமமாகப் பங்கிடவும்.

நானே செய்வேன்

1 காற்றாடிகளை எண்ணி எழுதுக.



$$6 \text{ பத்துகள்} + 4 \text{ ஒன்றுகள்} = 64$$

2 8 பத்துகள் கொண்ட எண்ணைத் தேர்ந்தெடு.

அ) 98

ஆ) 38

இ) 87

ஈ) 48

3 9 பூங்களை 3 பேருக்குச் சமமாகப் பங்கிடவும்.

3 9 பழங்களை 3 பேருக்குச் சமமாகப் பங்கிட்டுவும்.
ENNUM EZHUTHUM APP - AVAILABLE ON PLAY STORE



4 284க்கும் 286 க்கும் இடைப்பட்ட எண்ணின் எண்பெயரை எழுதுக.

இருநூற்று எண்பத்து ஐந்து

5 இரட்டை எண்கள் மட்டும் கொண்ட எண்தொடரைத் தேர்ந்தெடு.


அ) 384, 347, 351

ஆ) 71, 259, 235

இ) 481, 241, 326

ஈ) 186, 346, 454

3 9 பழங்களை 3 பேருக்குச் சமமாகப் பங்கிட்டுவும்.
ENNUM EZHUTHUM APP - AVAILABLE ON PLAY STORE



4 284க்கும் 286 க்கும் இடைப்பட்ட எண்ணின் எண்பெயரை எழுதுக.

இருநூற்று எண்பத்து ஐந்து

5 இரட்டை எண்கள் மட்டும் கொண்ட எண்தொடரைத் தேர்ந்தெடு.

அ) 384, 347, 351

ஆ) 71, 259, 235

இ) 481, 241, 326

ஈ) 186, 346, 454

3 9 பழங்களை 3 பேருக்குச் சமமாகப் பங்கிட்டுவும்.
ENNUM EZHUTHUM APP - AVAILABLE ON PLAY STORE



4 284க்கும் 286 க்கும் இடைப்பட்ட எண்ணின் எண்பெயரை எழுதுக.

இருநூற்று எண்பத்து ஐந்து

5 இரட்டை எண்கள் மட்டும் கொண்ட எண்தொடரைத் தேர்ந்தெடு.


அ) 384, 347, 351

ஆ) 71, 259, 235

இ) 481, 241, 326

ஈ) 186, 346, 454

6 கீழுள்ளவற்றுள் எதில் 15 மணிகள் 3 பேருக்குச் சமமாகப் பங்கிடப்பட்டுள்ளது?



7 899ன் தொடரியின் எண் பெயரை எழுதுக.

தொள்ளாயிரம்


8 ஒற்றை எண்ணைத் தேர்ந்தெடு.

அ) எழுநூற்று தொண்ணூற்று எட்டு

ஆ) அறுநூற்று முப்பத்து ஐந்து

இ) நானூற்று பன்னிரண்டு

6 கீழுள்ளவற்றுள் எதில் 15 மணிகள் 3 பேருக்குச் சமமாகப் பங்கிடப்பட்டுள்ளது?



7 899ன் தொடரியின் எண் பெயரை எழுதுக.

தொள்ளாயிரம்


8 ஒற்றை எண்ணைத் தேர்ந்தெடு.

அ) எழுநூற்று தொண்ணூற்று எட்டு

ஆ) அறுநூற்று முப்பத்து ஐந்து

இ) நானூற்று பன்னிரண்டு

6 கீழுள்ளவற்றுள் எதில் 15 மணிகள் 3 பேருக்குச் சமமாகப் பங்கிடப்பட்டுள்ளது?



7 899ன் தொடரியின் எண் பெயரை எழுதுக.

தொள்ளாயிரம்

8 ஒற்றை எண்ணைத் தேர்ந்தெடு.

அ) எழுநூற்று தொண்ணூற்று எட்டு

ஆ) அறுநூற்று முப்பத்து ஐந்து

இ) நானூற்று பன்னிரண்டு

ஈ) எண்ணூற்று இருபது

9) ரீட்டர் 24 இனிப்புகளை 6 நண்பர்களுக்குச் சமமாகப் பகிர்ந்து கொடுத்தான் எனில், ஒவ்வொரு நண்பருக்கும் எத்தனை இனிப்புகள் கிடைத்திருக்கும்?

அ) 2

ஆ) 6

இ) 4

ஈ) 8

10) சுமதி 35 வளையல்களை 7 தோழிகளுக்குச் சமமாகப் பகிர்ந்து கொடுத்தாள் எனில், ஒவ்வொரு தோழிக்கும் கிடைத்த வளையல்களின் எண்ணிக்கையைக் குறிக்கும் வகுத்தல் கூற்று எது?

அ) $35 \div 5 = 7$ ஆ) $5 \div 35 = 7$ இ) $35 \div 7 = 5$ ஈ) $7 \div 5 = 35$

ஈ) எண்ணூற்று இருபது

9) ரீட்டர் 24 இனிப்புகளை 6 நண்பர்களுக்குச் சமமாகப் பகிர்ந்து கொடுத்தான் எனில், ஒவ்வொரு நண்பருக்கும் எத்தனை இனிப்புகள் கிடைத்திருக்கும்?

அ) 2

ஆ) 6

இ) 4

ஈ) 8

10) சுமதி 35 வளையல்களை 7 தோழிகளுக்குச் சமமாகப் பகிர்ந்து கொடுத்தாள் எனில், ஒவ்வொரு தோழிக்கும் கிடைத்த வளையல்களின் எண்ணிக்கையைக் குறிக்கும் வகுத்தல் கூற்று எது?

அ) $35 \div 5 = 7$ ஆ) $5 \div 35 = 7$ இ) $35 \div 7 = 5$ ஈ) $7 \div 5 = 35$

ஈ) எண்ணூற்று இருபது

9) ரீட்டர் 24 இனிப்புகளை 6 நண்பர்களுக்குச் சமமாகப் பகிர்ந்து கொடுத்தான் எனில், ஒவ்வொரு நண்பருக்கும் எத்தனை இனிப்புகள் கிடைத்திருக்கும்?

அ) 2

ஆ) 6

இ) 4

ஈ) 8

10) சுமதி 35 வளையல்களை 7 தோழிகளுக்குச் சமமாகப் பகிர்ந்து கொடுத்தாள் எனில், ஒவ்வொரு தோழிக்கும் கிடைத்த வளையல்களின் எண்ணிக்கையைக் குறிக்கும் வகுத்தல் கூற்று எது?

அ) $35 \div 5 = 7$ ஆ) $5 \div 35 = 7$ இ) $35 \div 7 = 5$ ஈ) $7 \div 5 = 35$