



2.1

சரியானதை (✓) செய்வேன்



2.2

படிப்பேன்: எது? எந்த விழா? விடையை எழுதுவேன்




வளவன், முகிலனைவிட வேகமாக ஓடினான்.

வினையாட்டு விடா



அகிலா, தன் பள்ளியின் ஆண்டு அறிக்கையைப் படித்தாள்.

ஆண்டு விடா



குழந்தைகள், தாங்கள் வடிவமைத்த இயந்திர மனிதனைக்  
காட்சிப்படுத்தினர்.

அறிவியல் சிறுவிடா




வளவன், முகிலனைவிட வேகமாக ஓடினான்.

வினையாட்டு விடா



அகிலா, தன் பள்ளியின் ஆண்டு அறிக்கையைப் படித்தாள்.

ஆண்டு விடா



குழந்தைகள், தாங்கள் வடிவமைத்த இயந்திர மனிதனைக்  
காட்சிப்படுத்தினர்.

அநியாயச் சிறுவனிடா

அழைப்பிதழ் எதைப் பற்றியது?

1) கழிவு மேலாண்மை

2) கலைகள்

1

2

3

4

3) குழந்தைகள் விழா

4) பொங்கல்

இவ்விழாவில் கலந்து கொள்வதன் மூலம் நாம் எதை அறிந்து கொள்ளலாம்?

1) காய்கறிக் கழிவுகளைப் பாதுகாப்பாக அகற்றலாம்.

2) கழிவுநீரைப் பாதுகாப்பாக அகற்றலாம்.

1

2

3

4

3) மின்னணுக் கழிவுகளைப் பாதுகாப்பாக அகற்றலாம்.

4) மேற்சூறிய அனைத்தும்.

எந்தக் கழிவுகளை மேலாண்மை செய்யக் கற்றுத்தரப்படும்?

நிபந்தி

நிபந்தி



அழைப்பிதழ் எதைப் பற்றியது?

1) கழிவு மேலாண்மை

2) கலைகள்

1

2

3

4

3) குழந்தைகள் விழா

4) பொங்கல்

இவ்விழாவில் கலந்து கொள்வதன் மூலம் நாம் எதை அறிந்து கொள்ளலாம்?

1) காய்கறிக் கழிவுகளைப் பாதுகாப்பாக அகற்றலாம்.

2) கழிவுநீரைப் பாதுகாப்பாக அகற்றலாம்.

3) மின்னணுக் கழிவுகளைப் பாதுகாப்பாக அகற்றலாம்.

1

2

3

4

4) மேற்சூறிய அனைத்தும்.

எந்தக் கழிவுகளை மேலாண்மை செய்யக் கற்றுத்தரப்படும்?

கிடைக்காது

கிடைக்காது

2) கழிவுநீரைப் பாதுகாப்பாக அகற்றலாம்.

3) மின்னணுக் கழிவுகளைப் பாதுகாப்பாக அகற்றலாம்.

①

②

③

④

4) மேற்சூறிய அனைத்தும்.

எந்தக் கழிவுகளை மேலாண்மை செய்யக் கற்றுத்தரப்படும்?

கிடங்காதிவு

சிறுவக்காதிவு

மாறன், மாலை 4 மணிக்கு அறிவியல் திருவிழாவிற்குச் செல்லைத் திட்டமிட்டான். அவனது திட்டம் சரியானதா? உமது கருத்தை எழுதுக.

அவனது திட்டம் தவறு. ஏனெனில் 12.00

மணிவரை 12.00 மீட்டர் நடைபெறும்.

2) கழிவுநீரைப் பாதுகாப்பாக அகற்றலாம்.

3) மின்னணுக் கழிவுகளைப் பாதுகாப்பாக அகற்றலாம்.

1

2

3

4

4) மேற்சூறிய அனைத்தும்.

எந்தக் கழிவுகளை மேலாண்மை செய்யக் கற்றுத்தரப்படும்?

திடக்காதிவு

நிரவக்காதிவு

மாறன், மாலை 4 மணிக்கு அறிவியல் திருவிழாவிற்குச் செல்லைத் திட்டமிட்டான். அவனது திட்டம் சரியானதா? உமது கருத்தை எழுதுக.

அவனது திட்டம் தவறு ஏனெனில் 18.00

மணிவரை மட்டுமே நடைபெறும்.



தேனால மின்னணுக்  
கழிவுகள்தான்  
அதிகமாகும். ஒரு  
மின்னேற்றியே போதுமானது.

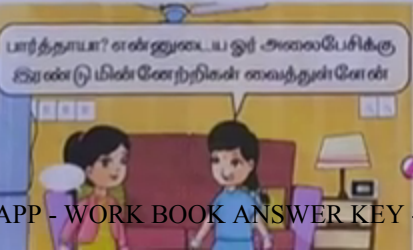


இந்த இலைகளைக் குப்பைத் தொட்டியில்  
போடாமல் ஏன் இங்கே போடுகிறாய்?

நடந்து செல்லும்  
தொலைவில்தான் கடை  
உள்ளது. வண்டியில் சென்று  
எரிபொருளை வீணாக்க  
வேண்டாமே!



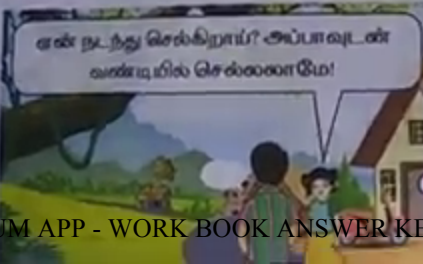
எரிக்க முடியாது? என்ன செய்ய வேண்டும்? அணைப்பை பிடித்து  
இரண்டு மின்னேற்றிகள் வைத்துள்ளேன்



மின்னேற்றியே போதுமானது.

நடந்து செல்லும்  
தொலைவில்தான் கடை  
உள்ளது. வண்டியில் சென்று  
எறிபொருளை வீணாக்க  
வேண்டாமே!

இதைக் கொண்டு அழகான  
பூந்தொட்டிகள் செய்வேன்.



இதைக் கொண்டு அழகான  
பூந்தொட்டிகள் செய்வேன்.

இலைகளை மக்கர்  
செய்து செடிகளுக்கு  
பாதுகாப்புப் போகிறேன்.



எந்த மாவட்டத்தில் அறிவியல் திருவிழா நடைபெறுகிறது?

அரியலூர் மாவட்டம்

ஒரு நிறுத்தக்குறியின் பெயர் இப்பக்கத்தில் உள்ளது? அது எது?

பின்னாக்கி

மின்னணுக்கழிவு உருவம் கூறிய முழுக்கத் தொடரை எழுதுக.

மாசில்லாத உலகம் படைப்போம்!  
மகிழ்வாண வாழ்வு பெறுவோம்!





எந்த மாவட்டத்தில் அறிவியல் திருவிழா நடைபெறுகிறது?

அரியலூர் மாவட்டம்

ஒரு நிறுத்தக்குறியின் பெயர் இப்பக்கத்தில் உள்ளது? அது எது?

பின்னணிக்கூறி

மின்னணுக்கழிவு உருவம் கூறிய முழுக்கத் தொடரை எழுதுக.

மாசில்லாத உலகம் படைப்போம்!  
மகிழ்வாண வாழ்வு பெறுவோம்!

மின்னணுக்கழிவு உருவத்தின் பாகங்கள் எதனால் செய்யப்பட்டு இருந்தன?

மின்னணுப் பொருள்களின்  
கழிவுகளால் செய்யப்பட்டது.

பெயரா? செயலா?

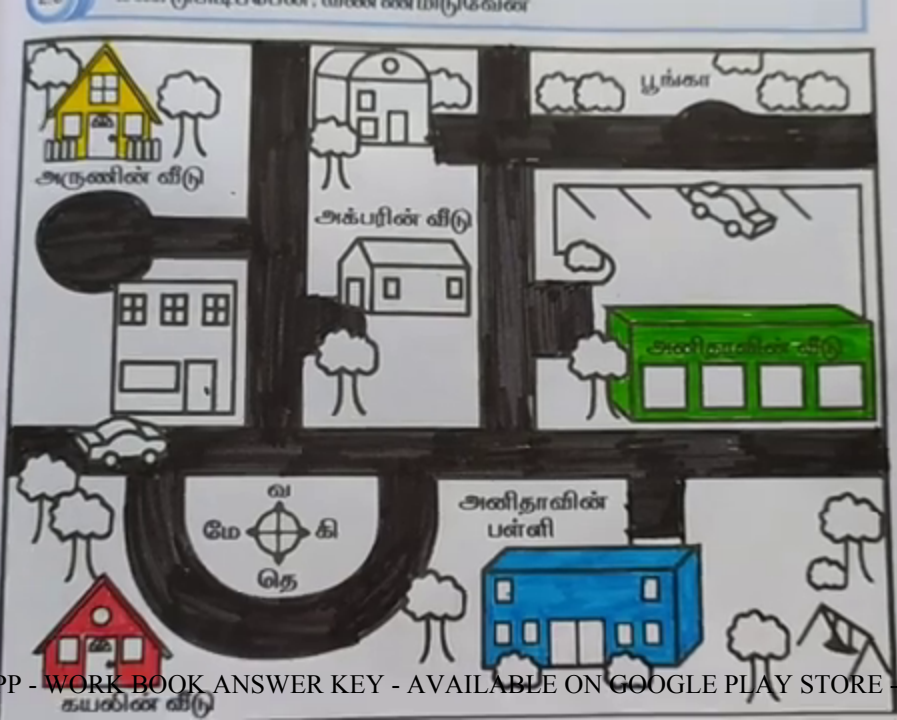
பகுதி 2

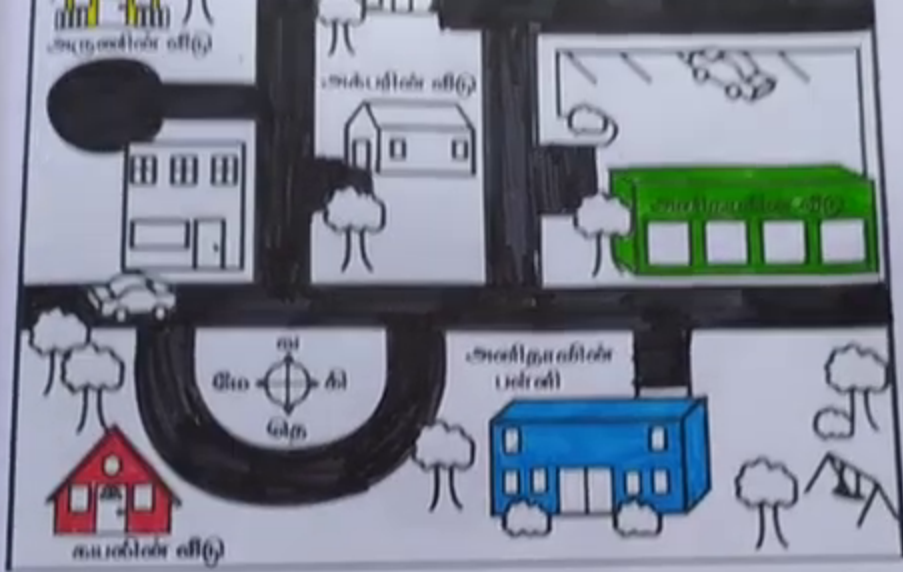


மின்னணுக்கழிவு உருவத்தின் பாகங்கள் எதனால் செய்யப்பட்டு இருந்தன?

மின்னணுப் பொருள்களின்  
கழிவுகளால் செய்யப்பட்டது.







1. അമ്മിണി (Ammini) = 120 മീറ്റർ നീളം

2. അമ്മിണി (Ammini) = 120 മീറ്റർ നീളം

1. அனிதாவின் வீடு - பச்சை வண்ணம்

2. அருணின் வீடு - மஞ்சள் வண்ணம்

3. அனிதாவின் பள்ளி - நீல வண்ணம்

4. கயலின் வீடு - சிவப்பு வண்ணம்.


5. சாலைகள் - கருப்பு வண்ணம்.

பூங்காவில் இருந்து கயலின் வீட்டிற்கு வரும் வழியில் என்னென்ன உள்ளன?

அனிதாவின் வீடு, அனிதாவின் பள்ளி

அருணின் வீடு பூங்காவிற்கு எந்தத் திசையில் உள்ளது?

பேர்தொகிசைமல் உள்ளது



1. அனிதாவின் வீடு - பச்சை வண்ணம்
2. அருணின் வீடு - மஞ்சள் வண்ணம்
3. அனிதாவின் பள்ளி - நீல வண்ணம்
4. கயலின் வீடு - சிவப்பு வண்ணம்.
5. சாலைகள் - கருப்பு வண்ணம்.

பூங்காவில் இருந்து கயலின் வீட்டிற்கு வரும் வழியில் என்னென்ன உள்ளன?

அனிதாவின் வீடு, அனிதாவின் பள்ளி

அருணின் வீடு பூங்காவிற்கு எந்தத் திசையில் உள்ளது?

மேற்குதிசையில் உள்ளது



தேநீர்க்கடை அமைந்துள்ள தெரு எது?


- 1) தென்றல் தெரு 2) பூங்கா தெரு 3) மல்லிகைத் தெரு

1

2

3

பள்ளியைக் குறிக்கும் குறியீடு எது?



1

2

3



- இக்குறியீடு எதைக் குறிக்கிறது?

- 1) தேநீர்க்கடை 2) வீடு 3) எரிபொருள் நிலையம்

1

2

3

கயல் வீட்டிலிருந்து கபிலன் வீட்டிற்குச் செல்ல எவ்வாறு வழிகாட்டுவாய்?

தெற்கு நோக்கிச் சென்று மேற்கே


சிறும்ப வேண்டும்.

தேநீர்க்கடை அமைந்துள்ள தெரு எது?

- 1) தென்றல் தெரு 2) பூங்கா தெரு 3) மல்லிகைத் தெரு

1 2 3

பள்ளியைக் குறிக்கும் குறியீடு எது?



1 2 3



- இக்குறியீடு எதைக் குறிக்கிறது?

- 1) தேநீர்க்கடை 2) வீடு 3) எரிபொருள் நிலையம்

1 2 3

கயல் வீட்டிலிருந்து கபிலன் வீட்டிற்குச் செல்ல எவ்வாறு வழிகாட்டுவாய்?

தெற்கு - நோக்கிச் சென்று மேற்கே

வீடு - தெற்கு

தேநீர்க்கடை அமைந்துள்ள தெரு எது?


- 1) தென்றல் தெரு 2) பூங்கா தெரு 3) மல்லிகைத் தெரு

1

2

3

பள்ளியைக் குறிக்கும் குறியீடு எது?



1

2

3



- இக்குறியீடு எதைக் குறிக்கிறது?

- 1) தேநீர்க்கடை 2) வீடு 3) எரிபொருள் நிலையம்

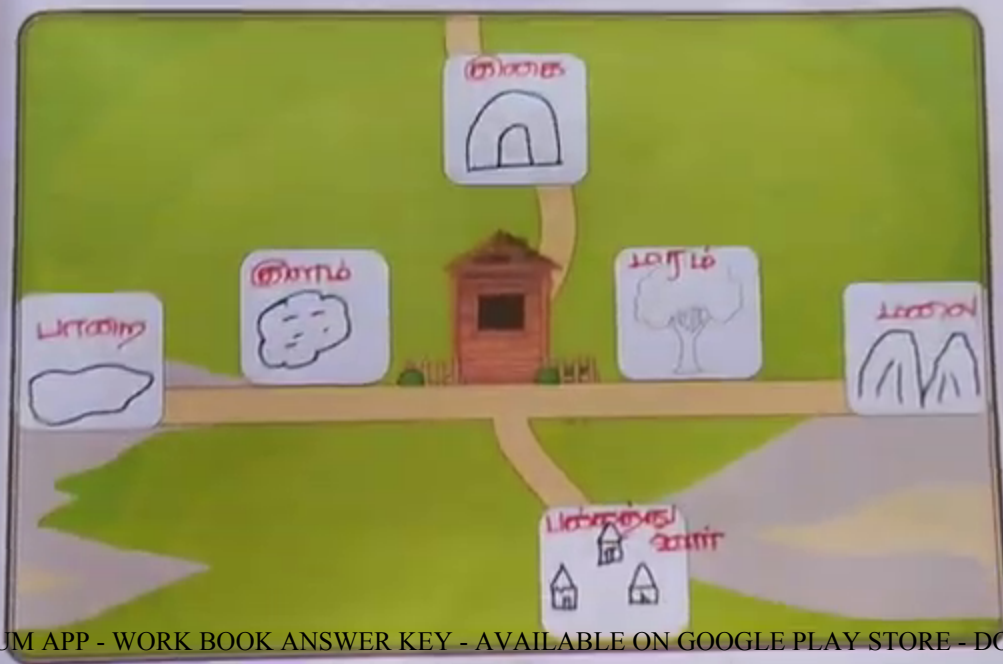
1


2

3





கயல் வீட்டிலிருந்து கபிலன் வீட்டிற்குச் செல்ல எவ்வாறு வழிகாட்டுவாய்?

தெற்கு நோக்கிச் சென்று மேற்கே  
சிறும்ப வேண்டும்.







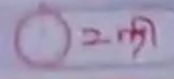

பயிற்சி எடுத்ததற்கு மொண்ட. நேரம்:



## 2.10 வினாக்கள்: பயிற்சி: பயிற்சி நேரத்தைக் குறிப்பிடுங்கள்

மாணவர்களே! நான் மொண்ட. கல்வித்துறை சார்பில் அறிவிக்க திருவிழா நடைபெறுகிறது. உங்களுடைய பழையபழைய பண்புகளை அங்கீகரிப்பதில் கவனம் செலுத்தவும். சிறந்த பண்புகளுக்கும் பரிசுகள் உண்டு. நம் பள்ளி மாணவர்களின் திருமணம் வெளியே செல்லும் நேரம் வரப்போகும் என்று அறியுங்கள். அழைப்பிதழை முகிலாண்டி கொடுத்தும் பயிற்சி மொண்ட. அறிவிப்பு முகிலாண்டி பயிற்சி அறிவிப்பு மொண்ட. மாணவர்கள், நாம் என்னென்ன மாற்றங்களை உருவாக்கலாம் என்று சிந்தித்துத் தொடங்கலாம்.

பயிற்சி எடுத்ததற்கு மொண்ட. நேரம்:




ஒலிப்பேன்! அறிவிப்பு!



படிக்க எடுத்துக் கொண்ட நேரம்:




3 நி



2 நி



1.30 நி



1 நி

ஒலிப்பேன்! அறிவேன்!



௪

செணை செ வெ னெ  
தெ டெ னெ  
செ கெ பெ நெ மெ

ே

சேணை சே  
வே  
சே நே தே டே னே  
கே பே மே னே


விடுபட்ட எழுத்தை நிரப்புவேன்



1. ரிசு நங்கலின் மீது ரீசு வல் நின்றது.
2. சென்னை மரத்தில் இருந்து சே நங்காய் கிடைக்கும்.
3. அட்டைப் பெட்டியில் பேரிகளாய்கள் இருந்தன.







ஒலிப்பேன்! அறிவேன்!



௭

ண்ணை வெள்ளை  
தெட்டை  
செக்கை பெண்ணை  
பெண்ணை

௭

ண்ணை வெள்ளை  
தெட்டை  
செக்கை பெண்ணை  
பெண்ணை



விடுபட்ட எழுத்தை நிரப்புவேன்

1. ௭ங்கலின் மீது ௭வல் நின்றது.
2. ௭ண்ணை மரத்தில் இருந்து ௭ங்காய்  
கிடைக்கும்.
3. அட்டைப் ௭ட்டியில் ௭ரிக்காய்கள் இருந்தன.



கண	பன்னீர்	கண்ணி	சிற்பி	சீரகம்	அரிசி	வல்லில் ஓரி
வீதி	பன்னீர்	ஏணி	தண்ணீர்	தீப்பந்தம்	வாரி	ஒட்டகச்சினிங்கி
ஒளி	இளநீர்	பாரீர்	ஆனால்	மின்மினி	கீரி	சின்னஞ்சிறிய
இனி	அதற்காக	மயில்	வானவில்	மகிழ்ச்சி	நிலம்	இவ்வாறாக
படி	ஆதலால்	எனில்	இதனால்	அதனால்	வழி	அப்படியானால்

உனக்குப் பிடித்த சொற்கள்

கிளி, காய்கறி,  
மினிமண்டி, கண்ணி,  
இளநீர், மயில்,  
வானவில், மின்மினி

உன் நண்பர்களுக்குப் பிடித்த சொற்கள்

கிளி, வாசி,  
மினிமண்டி, பன்னி,  
கணி, அரிசி, ஒளி,  
இளநீர்.

வீதி	பண்ணீர்	ஏணி	தண்ணீர்	தீப்பந்தம்	வாரி	ஒட்டகச்சிமிங்கி
ஒளி	இளநீர்	பாரீர்	ஆனால்	மின்மினி	கீரி	சின்னஞ்சிறிய
இனி	அதற்காக	மயில்	வானவில்	மகிழ்ச்சி	நிலம்	இவ்வாறாக
படி	ஆதலால்	எனில்	இதனால்	அதனால்	வழி	அப்படியானால்

உனக்குப் பிடித்த சொற்கள்

கிளி, காய்க்கதி,  
மிதிவண்டி, கண்ணி,  
இளநீர், மயில்,  
வானவில், மின்மினி

உன் நண்பர்களுக்குப் பிடித்த சொற்கள்

கிசினி, வாசி,  
மிதிவண்டி, பன்னி,  
கணி, அரிசி, யுனி,  
கிளநீர்.

வீதி	பண்ணீர்	ஏணி	தண்ணீர்	தீப்பந்தம்	வாரி	ஒட்டகச்சிவிங்கி
ஒளி	இளநீர்	பாரீர்	ஆனால்	மின்மினி	கீரி	சின்னஞ்சிறிய
இனி	அதற்காக	மயில்	வானவில்	மகிழ்ச்சி	நிலம்	இவ்வாறாக
படி	ஆதலால்	எனில்	இதனால்	அதனால்	வழி	அப்படியானால்

உனக்குப் பிடித்த சொற்கள்

கிளி, காய்க்கதி,  
மிக்கிவண்டி, கண்ணி,  
இளநீர், மயில்,  
வானவில், மின்மினி

உன் நண்பர்களுக்குப் பிடித்த சொற்கள்

விசிநி, வாலி,  
மிக்கிவண்டி, பன்னி,  
கணி, அரிசி, யுனி,  
கிளநீர்.

கணி	பள்ளி	கணினி	சிற்பி	சீரகம்	அரிசி	வண்ணிலுரி
வீதி	பண்ணீர்	ஏணி	தண்ணீர்	தீப்பந்தம்	வாரி	ஒட்டகச்சிமிங்கி
ஒளி	இனநீர்	பாரீர்	ஆனால்	மின்மினி	கீரி	சின்னஞ்சிறிய
இனி	அதற்காக	மயில்	வானவில்	மகிழ்ச்சி	நிலம்	இவ்வாறாக
படி	ஆதலால்	எனில்	இதனால்	அதனால்	வழி	அப்படியானால்

உனக்குப் பிடித்த சொற்கள்

கிளி, காய்கறி,  
மிதிவண்டி, கணினி,  
இனநீர், மயில்,  
வானில், மின்மினி

உன் நண்பர்களுக்குப் பிடித்த சொற்கள்

கிளி, வானி,  
மிதிவண்டி, பண்ணி,  
கணி, அரிசி, ஒளி,  
இனநீர்.

## நானே செய்வேன்

1. விடைக்கு ஒற்ற வினாத்தொடரைத் தேர்ந்தெடுக்க.

மாலையில் கமலா பந்து விளையாடினாள்.

அ) கமலா எப்பொழுது பந்து விளையாடினாள்?

ஆ) விமலா மாலையில் என்ன விளையாடினாள்?

இ) கமலா ஏன் பந்து விளையாடினாள்?

ஈ) பந்து விளையாடியது யார்?

அ

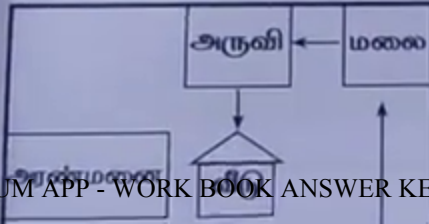
ஆ

இ

ஈ



2. பாணர் அரண்மனைக்குச் செல்லும்வழியில் கடந்து சென்ற இடங்களைக் கண்டுபிடிக்க.



அ) மலை, அருவியைக் கடந்து சென்றார்..

ஆ) வீடு, மலையைக் கடந்து சென்றார்.

இ) ஆறு, காட்டைக் கடந்து சென்றார்.

ஈ) ஆறு, அருவியைக் கடந்து சென்றார்.



- அ) அலைபேசி, மிதிவண்டி, தொலைக்காட்சி  
 ஆ) மடிக்கணினி, அலைபேசி, கணினி  
 இ) தொலைக்காட்சி, மிதிவண்டி, மின்னிடிரி  
 ஈ) மிதிவண்டி, அலைபேசி, கணினி

அ



ஆ



இ



ஈ



4. படத்திற்குரிய சரியான தொடரைக் கண்டறிக.



- அ) மின்னணுக் கழிவுகள் மக்கும் தன்மை உடையவை.  
 ஆ) மின்னணுக் கழிவுகளை மறுசுழற்சி செய்யத் தேவையில்லை.  
 இ) மின்னணுக் கழிவுகளின் அளவு குறைந்துகொண்டே வருகிறது.  
 ஈ) மின்னணுக் கழிவுகளை மறுசுழற்சி செய்ய வேண்டும்.

அ



ஆ



இ



ஈ





5. மிகக் காதலிக்கும் பண்புகள், தொழிறசாஸ்திரத்தை, சாயக்கழிவுகள், நெகிழிகள் - இவை போன்று மாக ஏற்படுத்தும் மற்றொரு பொருள் எது?

அ) காய்கறிக் கழிவுகள்

ஆ) பழத்தோல்கள்

இ) மின்னணுக் கழிவுகள்

ஈ) காய்ந்த இலைகள்

அ   ஆ   இ   ஈ  
☐   ☐   ☒   ☐

6. படத்தைப் பார்த்துத் தொடர்கள் எழுதுக.



வானவில் அழகாக உள்ளது.

யானையின் பின் திடிம்துதிகள்

அமர்ந்து உண்ணர்.

7. பத்தியைப் படித்து வினாக்களுக்கு விடையளிக்க.

பெருநகரங்களில் உள்ள ஆறுகளிலும் மின்னணுக் கழிவுகள் அதிக அளவில்

பொது இடங்களில் மின்னணுக் கழிவுகளை எரிப்பதால் சுற்று மண்டலம் மாசுபடுகிறது. மின்னணுக் கழிவுகளால் நிலத்தடி நீர் மிகவும் மாசுபடிகிறது.

5. மக்காதக் குப்பைகள், தொழிற்சாலைப் புகை, சாயக்கழிவுகள், நெகிழிகள் - இவை போன்று மாசு ஏற்படுத்தும் மற்றொரு பொருள் எது?

அ) காய்கறிக் கழிவுகள்

ஆ) பழுத்தோல்கள்

இ) மின்னணுக் கழிவுகள்

ஈ) காய்ந்த இலைகள்

அ	ஆ	இ	ஈ
<input type="radio"/>	<input type="radio"/>	<input checked="" type="radio"/>	<input type="radio"/>

6. படத்தைப் பார்த்துத் தொடர்கள் எழுதுக.



வானவில் அழகாக உள்ளது.

யானையின் கிடை குழந்தைகள்

அமர்ந்து உள்ளனர்.


5. மக்காதக் குப்பைகள், தொழிற்சாலைப் புகை, சாயக்கழிவுகள், நெகிழிகள் - இவை போன்று மாசு ஏற்படுத்தும் மற்றொரு பொருள் எது?

அ) காய்கறிக் கழிவுகள்

ஆ) பழுத்தோல்கள்

இ) மின்னணுக் கழிவுகள்

ஈ) காய்ந்த இலைகள்



6. படத்தைப் பார்த்துத் தொடர்கள் எழுதுக.



வாழ்வில் அழகாக உள்ளது.

யாழ்வியின் பிமல் குழந்தைகள்

அமர்ந்து உண்ணர்.

மின்கலத்தில் உள்ள உலோகத் துகள்கள் நிலத்திற்குள் ஊடுறுவி நிலத்தடி நீரை மாசுபடுத்துகின்றன. மின்கலங்களை எரிப்பதால் காற்று மாசுபடுகிறது. எனவே மின்னணுக் கழிவுகளை மறுசுழற்சி செய்யவேண்டும்.

1) மின்னணுக் கழிவுகளால் பாதிக்கப்படுவது \_\_\_\_\_

அ) நிலம்

ஆ) நீர்

அ

ஆ

இ

ஈ

இ) காற்று

ஈ) இம்மூன்றும்



2) மின்னணுக் கழிவுகள் அல்லாதது எது?

அ) உடைந்த தொலைக்காட்சி

ஆ) இயங்காத அலைபேசி

அ

ஆ

இ

ஈ

இ) சிதைந்த மண்பொம்மை

ஈ) தானியங்கிப் பொம்மை



3) அழகு என்ற பொருள் தரும் சொல்லை எழுதுக.

அழிவு

4) உனது வீட்டில் உள்ள பயனற்ற உடைந்த தொலைக்காட்சி இயக்கியை (Remote Control) என்ன செய்வாய்?

பாடலுய பிளாஸ்டிக் வாங்கியவரிடம்

பொருப்பெய்தல்.

மின்கலத்தில் உள்ள உலோகத் துகள்கள் நிலத்திற்குள் ஊடுறுவி நிலத்தடி நீரை மாசுபடுத்துகின்றன. மின்கலங்களை எரிப்பதால் காற்று மாசுபடுகிறது. எனவே மின்னணுக் கழிவுகளை மறுசுழற்சி செய்யவேண்டும்.

1) மின்னணுக் கழிவுகளால் பாதிக்கப்படுவது \_\_\_\_\_

அ) நிலம்

ஆ) நீர்

அ

ஆ

இ

ஈ

இ) காற்று

ஈ) இம்மூன்றும்



2) மின்னணுக் கழிவுகள் அல்லாதது எது?

அ) உடைந்த தொலைக்காட்சி

ஆ) இயங்காத அலைபேசி

அ

ஆ

இ

ஈ

இ) சிதைந்த மண்பொம்மை

ஈ) தானியங்கிப் பொம்மை



3) அழகு என்ற பொருள் தரும் சொல்லை எழுதுக.

சாழி

4) உனது வீட்டில் உள்ள பயனற்ற உடைந்த தொலைக்காட்சி இயக்கியை (Remote Control) என்ன செய்வாய்?

பண்டிய மினாண்டிக் வாங்கியவரிடம்

கொடுப்பேன்.



கொண்டி நூல்களின் நன்றி.





அண்ணன் கணபன் பாடல் மது ஆர்வம்  
கொண்டிருக்கிறான்.  
பெற்றோர் எங்கள் மகிழ்ச்சியில் ஆர்வம்  
கொண்டிருக்கின்றனர்.

நானும் எனது குடும்பமும்

நான் வினாயாவையில்  
ஆர்வம் கொண்டிருக்கிறேன்.

சும்மி படம் வரைவதில் ஆர்வம்  
கொண்டிருக்கிறான். பெற்றோர் எங்கள்  
வளர்ச்சியும் மகிழ்ச்சியிலும்  
ஆர்வமாக உள்ளனர்.

என்களுக்கேற்ப எழுத்துகளைக் கொண்டு தொடர்களை உருவாக்க நிலைவனுக்கு

உருவாக்கினார்.





அண்ணன் கணியன் பாடல் மீது ஆர்வம்  
கொண்டிருக்கிறான்.  
பெற்றோர் எங்கள் மகிழ்ச்சியில் ஆர்வம்  
கொண்டிருக்கின்றனர்.

நானும் எனது குடும்பமும்


நான் வினாயாவையில்  
ஆர்வம் கொண்டிருக்கிறேன்.

சுமீ பட்டம் உணர்வதில் ஆர்வம்  
கொண்டிருக்கிறான். பெற்றோர் எங்கள்  
உளர்ச்சியும் மகிழ்ச்சியிலும்  
ஆர்வமாக உள்ளனர்.

என்களுக்கேற்ப எழுத்துகளைக் கொண்டு தொடர்களை உருவாக்க நிலைவனுக்கு

கொண்டிருக்கிறாயா?  
வளர்ச்சியும் மகிழ்ச்சியும்  
சூர்வமாக உன்னார்.

எண்களுக்கேற்ப எழுத்துகளைக் கொண்டு தொடர்களை உருவாக்க நிலைவனுக்கு உதவுங்களேன்!




1  
த

1 2  
மை பூ க

1 2 3  
பூ மாலை அழகு

1 2 3 4  
வா நாம் அங்கே போகணம்



1  
வா

1 2  
நா கொடு

1 2 3  
நி பார் பருகு

1 2 3 4  
நி வாய் கபடி விளையாடு

கொண்டிருக்கிறது. அதை  
வளர்ச்சியும் மகிழ்ச்சியிலும்  
சூர்வமாக உண்ணர்.

எண்களுக்கேற்ப எழுத்துகளைக் கொண்டு தொடர்களை உருவாக்க நிலைவனுக்கு  
உதவுங்களேன்!

1  
த

1 2  
மை பூ

1 2 3  
பூ மாலை அழகு

1 2 3 4  
வா நாம் அங்கே போகணம்

1  
வா


1 2  
கா கா

1 2 3  
நீ பால் பருகு

1 2 3 4  
நீ வாய் கபடி தினாயாடு



நூலகம் செல்வேன்  
கடைக்குச் செல்வேன்  
படங்கள் வரைவேன்



எனது ஓய்வு நேரம்

பெற்றோருக்கு உதவுவேன்  
கதை படிப்பேன்  
தொலைக்காட்சி பார்ப்பேன்  
நண்பர்களுடன் விளையாடுவேன்

உங்கள் வீட்டில் ஓய்வே இல்லாமல் இருப்பது எது? அதை வரைந்து அது குறித்து



பெற்றொருங்கு உதவுவேன்

நூலகம் செல்வேன்  
கடைக்குச் செல்வேன்  
படங்கள் வரைவேன்



எனது ஓய்வு நேரம்

பெற்றொருங்கு உதவுவேன்  
கதை படிப்பேன்  
தொலைக்காட்சி பார்ப்பேன்  
நண்பர்களுடன் விளையாடுவேன்

உங்கள் வீட்டில் ஓய்வே இல்லாமல் இருப்பது எது? அதை வரைந்து அது குறித்து

எழுதுங்கள்.



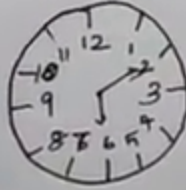
கடைக்குச் செல்வேன்  
படங்கள் வரைவேன்



எனது ஓய்வு நேரம்

பெற்றோருக்கு உதவுவேன்  
கதை படிப்பேன்  
தொலைக்காட்சி பார்ப்பேன்  
நண்பர்களுடன் விளையாடுவேன்

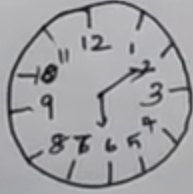
உங்கள் வீட்டில் ஓய்வே இல்லாமல் இருப்பது எது? அதை வரைந்து அது குறித்து  
எழுதுங்களேன்!



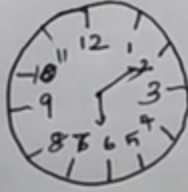
வயிணின்னாடல் இடுப்பது கடிக்காரம்.  
 இது தாங்ககைக்கு சரியான நேரம்  
 காட்டும். இனிந்த நேரத்தில் சந்தம்  
 அடிப்பி தாங்களை உற்சாகப்படுத்துக.



உங்கள் வீட்டில் ஓய்வே இல்லாமல் இருப்பது எது? அதை வரைந்து அது குறித்து  
எழுதுங்களேன்!



ஓய்வில்லாமல் இருப்பது கடினாரம்.  
இது எங்களுக்கு சரியான நேரம்  
காட்டும். சிறிந்த நேரத்தில் சந்தம்  
எழுப்பி எங்களை உற்சாகப்படுத்தும்.



வயிணின்னாமல் இருப்பது கடினாரம்.  
இது எங்களுக்கு சரியான நேரம்  
காட்டும். இந்நிந்த நேரத்தில் சத்தம்  
எழுப்பி எங்களை உற்சாகப்படுத்தும்.